

(32) ව්‍යාපාර අධ්‍යයනය

ප්‍රශ්න පත්‍ර ව්‍යුහය

I පත්‍රය :- කාලය : පැය 02 යි.
 බහුවරණ ප්‍රශ්න 30ක් හා කෙටි පිළිතුරු සැපයීමේ ප්‍රශ්න 20කි. ප්‍රශ්න සියල්ලට ම පිළිතුරු සැපයිය යුතු ය. එක් ප්‍රශ්නයකට ලකුණු 02 බැගින් මුළු ලකුණු 100කි.

II පත්‍රය :- කාලය : පැය 03 යි. (ඊට අමතරව කියවීම් කාලය මිනිත්තු 10යි.)
 මෙම ප්‍රශ්න පත්‍රය කොටස් දෙකකින් සමන්විත වේ.
 I කොටස - ව්‍යුහගත රචනා වර්ගයේ ප්‍රශ්න හතරකි.
 II කොටස - ව්‍යුහගත රචනා වර්ගයේ ප්‍රශ්න හතරකි.

එක් කොටසකින් අවම වශයෙන් ප්‍රශ්න දෙක බැගින්වත් තෝරාගෙන ප්‍රශ්න පහකට පිළිතුරු සැපයිය යුතු ය. එක් ප්‍රශ්නයකට ලකුණු 20 බැගින් මුළු ලකුණු 100කි.

අවසාන ලකුණ ගණනය කිරීම : I පත්‍රය = 100
 II පත්‍රය = 100
 අවසාන ලකුණ = 200 ÷ 2 = 100

I පත්‍රය

සැලකිය යුතුයි :

- * සියලු ම ප්‍රශ්නවලට පිළිතුරු මෙම ප්‍රශ්න පත්‍රයේ ම සපයන්න.
- * සෑම ප්‍රශ්නයකට ම ලකුණු දෙක බැගින් හිමි වේ.

- * ප්‍රශ්න අංක 1 සිට 30 තෙක් වූ ප්‍රශ්නවලට නිවැරදි පිළිතුර තෝරා, එහි අංකය ප්‍රශ්නය ඉදිරියෙන් ඇති කින් ඉර මත ලියන්න.
1. පහත සඳහන් නිදසුන් අතුරින් අවශ්‍යතා පමණක් දැක්වෙන පිළිතුර තෝරන්න.
 - (1) අධ්‍යාපනය, වින්දනය, සෞඛ්‍යය, දුරකථනය, සන්නිවේදනය
 - (2) අධ්‍යාපනය, ප්‍රවාහනය, රෝහල, සන්නිවේදනය, ආරක්ෂාව
 - (3) වින්දනය, ප්‍රවාහනය, රක්ෂණය, අධ්‍යාපනය, සන්නිවේදනය
 - (4) විදුලිය, අධ්‍යාපනය, සෞඛ්‍යය, සන්නිවේදනය, ප්‍රවාහනය
 - (5) වින්දනය, අධ්‍යාපනය, ප්‍රවාහනය, සෞඛ්‍යය, සන්නිවේදනය (.....)
 2. වාසනා, මැණික් ගැරීමේ හා මැණික් ගල් ඔප මට්ටම් කර ආහරණ නිපදවීමේ ව්‍යාපාරයක් පවත්වා ගෙන යයි. මෙහි අන්තර් ව්‍යාපාර සම්බන්ධය වන්නේ,
 - (1) කාර්මික නිෂ්පාදනය හා සේවා ලෙස ය.
 - (2) කෘෂිකාර්මික නිෂ්පාදනය හා කාර්මික නිෂ්පාදනය ලෙස ය.
 - (3) ප්‍රාථමික නිෂ්පාදනය හා තෘතීයික නිෂ්පාදනය ලෙස ය.
 - (4) ද්විතීක නිෂ්පාදනය හා තෘතීයික නිෂ්පාදනය ලෙස ය.
 - (5) ප්‍රාථමික නිෂ්පාදනය හා ද්විතීක නිෂ්පාදනය ලෙස ය. (.....)
 3. පහත සඳහන් වන්නේ සිද්ධි කිහිපයකි.
 - A - අමායා තම ගෙවත්තේ වචන ඵලවඵ දිනපතා පරිභෝජනයට ගනියි.
 - B - නිසල් තම මෝටර් රථය මිතුරෙකු වූ මාධවට විකුණුවේ ය.
 - C - විලාසිනී ඉවතලන රෙදි කැබලි යොදා පාපිසි නිපදවා විකුණයි.
 - D - ආනයනය කරන ලද වියළි ආහාර ප්‍රතින් විසින් නැවත පැකට් කර ලේබල් අලවා සහනදායී මිලට අලෙවි කරයි.

ඉහත සිද්ධි අතුරින් ව්‍යාපාර ගති ලක්ෂණ පිළිබිඹු වන සිද්ධි පමණක් ඇතුළත් වරණය තෝරන්න.
 (1) A හා B (2) A හා C (3) B හා C (4) B හා D (5) C හා D
 (.....)

4. ව්‍යාපාරවල සමාජයීය වගකීම් හා ආචාරධර්ම සඳහා නිදසුන් කිහිපයක් පහත දැක්වේ.

- A - සේවකයින්ට වෘත්තීය ආරක්‍ෂාව ලබාදීම
- B - අයිතිකරුවන්ට සාධාරණ ඉපැයීමක් ලබාදීම
- C - පාරිභෝගිකයින්ට සත්‍ය දෑ පමණක් සන්නිවේදනය කිරීම
- D - වෙනත් පාර්ශවයන්ට හානි නොවන ලෙස කටයුතු කිරීම
- E - වෙනත් ව්‍යාපාර සමග සාධාරණව හා අවංකව තරග කිරීම

ඉහත සඳහන් ඒවායින් ව්‍යාපාර ආචාරධර්ම සඳහා නිදසුන් වන්නේ,

- (1) A, B හා C පමණි. (2) A, C හා D පමණි.
- (3) B, C හා D පමණි. (4) B, D හා E පමණි.
- (5) C, D හා E පමණි. (.....)

5. සාර්ව පරිසර බලවේග කිහිපයක් X තීරුවේ ද ඒවා සම්බන්ධ නිදසුන් කිහිපයක් Y තීරුවේ ද දැක්වේ.

X	Y
(i) ආර්ථික පරිසරය	A - අන්තර්ජාලය මගින් සැපයෙන සේවා පුළුල් ලෙස වර්ධනය වීම
(ii) ප්‍රජා පරිසරය	B - ලෝකයේ රටවල් සමස්තයක් වශයෙන් තිරසර (Sustainable) සංවර්ධනයට යොමු වීම
(iii) තාක්ෂණික පරිසරය	C - වයස අවුරුදු 60ට වැඩි ජනගහන ප්‍රතිශතය ඉතා ඉහළ මට්ටමක පැවතීම
(iv) සමාජයීය හා සංස්කෘතික පරිසරය	D - පසුගිය මාස 03 තුළ භාණ්ඩ හා සේවාවන්හි සාමාන්‍ය මිල මට්ටම අඛණ්ඩව ඉහළ යාම
(v) ගෝලීය පරිසරය	E - සිංහල හා හින්දු අලුත් අවුරුදු උත්සවය උත්කර්ෂවත් අයුරින් සැමරීමට උනන්දු වීම

X තීරුවේ දැක්වෙන සාර්ව පරිසර බලවේග හා Y තීරුවේ නිදසුන් නිවැරදි ව අනුපිළිවෙළින් ගලපා ඇති පිළිතුර තෝරන්න.

- (1) A, C, D, E, B (2) B, C, A, E, D
- (3) D, C, A, B, E (4) D, C, A, E, B
- (5) D, C, B, E, A (.....)

6. රජයේ බදු ආදායම් වර්ග හා ඒවාට අදාළ නිදසුන් පහත දැක්වේ.

බදු වර්ගය	නිදසුන
A - ආදායම් බදු	- සමාගම් බදු, උපයන විට ගෙවීම් බදු
B - නිෂ්පාදන බදු	- දුම්කොළ නිෂ්පාදන බදු, සුරා බදු
C - එකතු කළ අගය මත බදු	- විදුලි සංදේශ බදු, තොග හා සිල්ලර වෙළෙඳාම මත අයකරන බදු
D - ආනයන මත බදු	- ආනයනවලට එකතු කළ අගය මත බදු, වරාය හා ගුවන් තොටුපල සංවර්ධන බදු

බදු වර්ගය සහ ඊට අදාළ නිදසුන් නිවැරදිව සඳහන් කර ඇත්තේ,

- (1) A හා B හි ය. (2) A හා C හි ය.
- (3) B හා C හි ය. (4) C හා D හි ය.
- (5) C හා E හි ය. (.....)

7. සුළු හා මධ්‍ය පරිමාණ ව්‍යාපාරිකයින් වෙනුවෙන් පැවැත් වූ වැඩමුළුවක දී එම ව්‍යාපාර සඳහා මූල්‍ය පහසුකම් සම්පාදනය කර ගැනීමට දැනට ක්‍රියාත්මක පහත ණය යෝජනා ක්‍රම ත්‍රිත්වයක් හා එම ණය යෝජනාවලට අනුග්‍රාහකත්වය දක්වන ආයතන 3ක් පිළිබඳ ව දේශකවරයා විසින් කරුණු අනාවරණය කරන ලදී.

ණය යෝජනා ක්‍රමය	අනුග්‍රාහකත්වය දක්වන ආයතනය
(i) සහන්යා	A - අන්තර්ජාතික සහයෝගීතාව සඳහා වූ ජපාන බැංකුව
(ii) සුවන	B - ආසියානු සංවර්ධන බැංකුව
(iii) සණස ණය ව්‍යාපෘතිය	C - ජාතික සංවර්ධන භාරකාර අරමුදල

මෙම ණය යෝජනා ක්‍රම සඳහා මූල්‍ය අනුග්‍රාහකත්වය දක්වන ආයතන අනුපිළිවෙළින් නිවැරදි ව දැක්වෙන පිළිතුර තෝරන්න.

- | | |
|---------------|---------------|
| (1) A, B හා C | (2) C, A හා B |
| (3) B, C හා A | (4) B, A හා C |
| (5) C, B හා A | (.....) |

8. ව්‍යාපාර සංවිධාන වර්ගය හා එහි ලක්ෂණ නිවැරදි ව දැක්වෙන ප්‍රකාශය තෝරන්න.

- (1) පුද්ගලික අංශයට අයත්, වගකීම සීමිත, නීතිමය පුද්ගලභාවයක් නොමැති හා ලාභ ඉපයීම අරමුණ කර නොගත් ව්‍යාපාර සංවිධාන වර්ගය සංස්ථාපිත සමාගම් වේ.
- (2) පොදු අංශයට අයත්, වගකීම සීමිත, නීතිමය පුද්ගලභාවයක් නොමැති හා ලාභ ඉපයීම අරමුණ කරගත් ව්‍යාපාර සංවිධාන වර්ගය වන්නේ රාජ්‍ය සංස්ථා ය.
- (3) පුද්ගලික අංශයට අයත්, වගකීම අසීමිත, නීතිමය පුද්ගලභාවයක් නොමැති හා එක් අයෙකුට ආරම්භ කළ නොහැකි ව්‍යාපාර සංවිධාන වර්ගය හවුල් ව්‍යාපාර වේ.
- (4) පොදු අංශයට අයත්, වගකීම සීමිත, නීතිමය පුද්ගලභාවය හිමි හා අවම සාමාජික සංඛ්‍යාව දහයක් විය යුතු ව්‍යාපාර සංවිධාන වර්ගය සමූපකාර ව්‍යාපාර වේ.
- (5) පොදු අංශයට අයත්, වගකීම අසීමිත, නීතිමය පුද්ගලභාවය හිමි හා ලාභ අරමුණු කර නොගත් ව්‍යාපාර සංවිධාන වර්ගය රාජ්‍ය දෙපාර්තමේන්තු වේ. (.....)

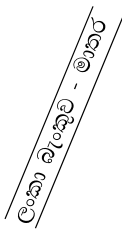
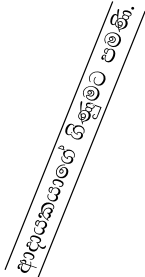
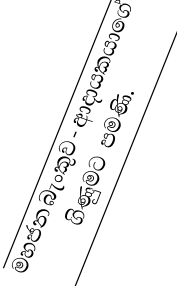
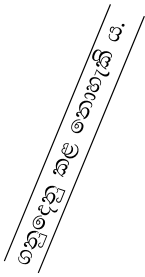
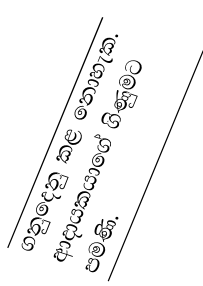
9. පාරිභෝගික ආරක්ෂණ කටයුතුවලට සම්බන්ධ වන ආයතන පමණක් ඇතුළත් වරණය තෝරන්න.

- (1) ශ්‍රී ලංකා ප්‍රමිති ආයතනය, කාර්මික සංවර්ධන මණ්ඩලය, විදුලි සංදේශ නියාමන කොමිසම, කාර්මික තාක්ෂණ ආයතනය
- (2) දේශීය ආදායම් දෙපාර්තමේන්තුව, පාරිභෝගික කටයුතු පිළිබඳ අධිකාරිය, ශ්‍රී ලංකා රක්ෂණ සංස්ථාව, ශ්‍රී ලංකා ප්‍රමිති ආයතනය
- (3) මිනුම් ඒකක හා ප්‍රමිති සේවා දෙපාර්තමේන්තුව, ශ්‍රී ලංකා රක්ෂණ සංස්ථාව, පාරිභෝගික කටයුතු පිළිබඳ අධිකාරිය, කාර්මික තාක්ෂණ ආයතනය
- (4) ශ්‍රී ලංකා ප්‍රමිති ආයතනය, ශ්‍රී ලංකා රක්ෂණ සංස්ථාව, විදුලි සංදේශ නියාමන කොමිසම, කාර්මික සංවර්ධන මණ්ඩලය
- (5) මධ්‍යම පරිසර අධිකාරිය, ශ්‍රී ලංකා ප්‍රමිති ආයතනය, මිනුම් ඒකක හා ප්‍රමිති සේවා දෙපාර්තමේන්තුව, විදුලි සංදේශ නියාමන කොමිසම (.....)

10. තම මිතුරෙකුට ලබා දී තිබූ ණය මුදලකින් කොටසක් අශේන්ට ආපසු ලැබුණු අතර, ඔහු එයින් රු. 80,000ක් වටිනා පරිගණක යන්ත්‍රයක් මිල දී ගෙන ඉතිරිය බැංකුවේ තැන්පත් කළේ ය. මෙම සිද්ධියට අනුව මුදලින් ඉටු වූ කාර්යයන් අනුපිළිවෙළින් දැක්වෙන පිළිතුර කුමක් ද?

- (1) විලම්බිත ගෙවුම් මාධ්‍යයක් වීම, වටිනාකමේ මිම්මක් වීම, හුවමාරු මාධ්‍යයක් වීම, වටිනාකමේ සන්නිධියක් වීම
- (2) වටිනාකමේ මිම්මක් වීම, හුවමාරු මාධ්‍යයක් වීම, විලම්බිත ගෙවුම් මාධ්‍යයක් වීම, වටිනාකමේ සන්නිධියක් වීම
- (3) වටිනාකමේ සන්නිධියක් වීම, හුවමාරු මාධ්‍යයක් වීම, විලම්බිත ගෙවුම් මාධ්‍යයක් වීම, වටිනාකමේ මිම්මක් වීම
- (4) විලම්බිත ගෙවුම් මාධ්‍යයක් වීම, වටිනාකමේ සන්නිධියක් වීම, වටිනාකමේ මිම්මක් වීම, හුවමාරු මාධ්‍යයක් වීම
- (5) වටිනාකමේ සන්නිධියක් වීම, වටිනාකමේ මිම්මක් වීම, හුවමාරු මාධ්‍යයක් වීම හා විලම්බිත ගෙවුම් මාධ්‍යයක් වීම (.....)

11. නිවන්ත ප්‍රනාන්දු මින්නේරිය මහජන බැංකුවේ ජංගම ගිණුම් හිමියෙකු වන අතර, කේෂාන් පෙරේරා ලංකා බැංකුවේ මාතර ශාඛාවේ ජංගම ගිණුම් හිමියෙකි. නිවන්ත විසින් කේෂාන් වෙත රු. 60,000 ක රේඛිත චෙක්පතක් නිකුත් කර ඇති අතර, කේෂාන් එම චෙක්පත තම බැංකු ගිණුමේ තැන්පත් කිරීමට භාරදුන් විට බැංකුව විසින් රේඛිතයට අදාළ ගැටළුවක් හේතුවෙන් එය පිළිගත නොහැකි බව පවසා එම චෙක්පත ප්‍රතික්ෂේප කරන ලදී. එම චෙක්පත රේඛිතය කර තිබූ ආකාරය දැක්වෙන වරණය තෝරන්න.

- (1)  (2)  (3)  (4)  (5)  (.....)

12. සිකුම් සතු ලක්ෂ 50ක නිවස සඳහා රක්ෂණ ආවරණයක් ලබාගෙන ඇත. පසුගිය කාලයේ දී ඇති වූ ගංවතුරෙන් ඔහුගේ නිවසට හානි සිදු වූ අතර ඒ සඳහා ඔහු රක්ෂණ වන්දි ඉල්ලා සිටිය ද වන්දි ගෙවීම රක්ෂණ ආයතනය විසින් ප්‍රතික්ෂේප කර ඇත. එසේ ප්‍රතික්ෂේප කිරීමට අදාළ රක්ෂණ මූලධර්මය වන්නේ,

(1) උපරිම විශ්වාසයයි. (2) රක්ෂණ හිමිකමයි.
 (3) හානිපූරණයයි. (4) ආසන්නතම හේතුවයි.
 (5) ආදේශනයයි. (.....)

13. විද්‍යුත් මාධ්‍ය හරහා භාණ්ඩ වෙළෙඳාමේ දී එයට ආවේණික වූ අවාසියක් ලෙස සැලකිය හැක්කේ,

(1) මිල අධික වීම ය. (2) වංචාවීමට ඇති ඉඩකඩ වැඩි වීම ය.
 (3) භෞතිකව පරීක්ෂා කළ නොහැකි වීම ය. (4) ආපසු භාරදීමට අපහසු වීම ය.
 (5) කලින් මුදල් ගෙවීමට සිදුවීම ය. (.....)

14. විදේශ වෙළෙඳාමේ දී භාවිත වන ලියවිලි කිහිපයක් X තීරුවේ ද ඒවායේ අවශ්‍යතා Y තීරුවේ ද දැක්වේ.

X	Y
(i) ආනයන සටහන්කරය	A - අපනයනකරුගෙන් භාණ්ඩ ඇණවුම් කිරීමට ආනයනකරුට අවශ්‍ය වේ.
(ii) වේදිකා කුවිතාන්සිය	B - දූෂ්‍ය නොහොර පත්‍රයක් වෙනුවට පාරිශුද්ධ නොහොර පත්‍රයක් ලබා ගැනීමට අපනයනකරුට අවශ්‍ය වේ.
(iii) හානි රක්ෂණ ලිපිය	C - ආනයනකරු වෙනුවෙන් වරායට ලැබී ඇති භාණ්ඩ පිළිබඳ අයිතිය ප්‍රකාශ කිරීමට ආනයනකරුට අවශ්‍ය වේ.
(iv) ඉන්ඩෙන්ටුව	D - රේගුවට භාණ්ඩ භාරදුන් බවට තහවුරු කිරීමට අපනයනකරුට අවශ්‍ය වේ.

X තීරුවේ දැක්වෙන ලියවිලි හා Y තීරුවේ දැක්වෙන අවශ්‍යතා නිවැරදි ව අනුපිළිවෙලින් ගලපා ඇති පිළිතුර තෝරන්න.

- (1) B, C, D, A (2) C, D, A, B
 (3) C, D, B, A (4) D, A, B, C
 (5) D, B, C, A (.....)

15. ප්‍රධානියා වෙනුවෙන් ණයට භාණ්ඩ විකිණීම සිදුකර එම ණය මුදල ආපසු එකතු කර දීම සඳහා වගකීම භාරගනු ලබන්නේ,

(1) කැපකරු නියෝජිතයා ය. (2) සාධාකයා ය.
 (3) වෙන්දේසිකරු ය. (4) කොමිස් නියෝජිතයා ය.
 (5) තැරැව්කරු ය. (.....)

16. පහත වගුවේ X තීරුවේහි කළමනාකරණ මට්ටම් ද Y තීරුවේහි කළමනාකරණ තනතුරු නාමයන් ද දැක්වේ.

X	Y
A - අග්‍ර කළමනාකරු	1 - සුපරීක්ෂක
B - මධ්‍ය කළමනාකරු	2 - මූල්‍ය කළමනාකරු
C - පළමු පෙළ කළමනාකරු	3 - මානව සම්පත් කළමනාකරු
	4 - වැඩ මූලික
	5 - ප්‍රධාන විධායක කළමනාකරු
	6 - සාමාන්‍යාධිකාරී

කළමනාකරණ මට්ටම් හා ඊට අදාළ කළමනාකරණ තනතුරු නාම නිවැරදි ව පිළිවෙළින් ගලපා ඇති වරණය තෝරන්න.

- (1) A - 1, 4 B - 2, 3 C - 5, 6
 - (2) A - 5, 6 B - 2, 3 C - 1, 4
 - (3) A - 4, 6 B - 2, 5 C - 1, 3
 - (4) A - 5, 6 B - 3, 4 C - 1, 2
 - (5) A - 3, 5 B - 2, 6 C - 1, 4
- (.....)

17. සංකල්පනාත්මක කුසලතා පිළිබඳ වඩාත් නිවැරදි ප්‍රකාශය තෝරන්න.

- (1) නව අදහස් විශ්ලේෂණය කිරීමේ, ගැටලු විසඳීමේ හා අන් අය සමග සහයෝගයෙන් කටයුතු කිරීමේ හැකියාව හා තීක්ෂණව සිතීමේ හැකියාවයි.
 - (2) අභ්‍යන්තර හා බාහිර පරිසරය පිළිබඳ ව අවබෝධය හා ගැටලු තේරුම් ගැනීමේ හා විසඳීමේ හැකියාවයි.
 - (3) සංවිධානක පරිසරය පිළිබඳ අවබෝධය, ගැටළු තේරුම් ගැනීමේ හා විසඳීමේ හැකියාව, දුරදර්ශීව හා තීක්ෂණව සිතීමේ හැකියාවයි.
 - (4) සංවිධාන පරිසරය පිළිබඳ ව අවබෝධය, ගැටළු තේරුම් ගැනීමේ හා විසඳීමේ හැකියාව, දුරදර්ශීව හා කාර්යයන් කිරීමේ හැකියාවයි.
 - (5) ගැටළු තේරුම් ගැනීමේ හා විසඳීමේ හැකියාව, සේවක සහයෝගීතාව සහ යම් කාර්යයක් කිරීමට පැවතිය යුතු සුවිශේෂ දැනුම, පලපුරුද්ද හා හැකියාවයි.
- (.....)

18. පහත වගුවේ X තීරුව මගින් නිෂ්පාදන ක්‍රම ද Y තීරුව මගින් එම නිෂ්පාදන සඳහා නිදසුන් ද දැක්වේ.

X	Y
A - කාර්ය	1 - මනාලියකගේ මිම්මට අනුව මංගල ඇඳුමක් මැසීම
B - කාණ්ඩ	2 - යුධ හමුදාවට නිල ඇඳුම් මැසීම
C - ප්‍රවාහ	3 - ඇණවුමකට අනුව නිවාස සැලසුමක් ඇඳීම
	4 - පාසලක ශිෂ්‍ය නායක කණ්ඩායම සඳහා පදක්කම් සෑදීම
	5 - ජෑම් නිෂ්පාදන ආයතනයක් සිනි රහිත ජෑම් වර්ගයක් වෙළෙඳපොළට ඉදිරිපත් කිරීම සඳහා නිපදවීම
	6 - වොක්ලට් නිෂ්පාදන ආයතනයක් අපනයනය සඳහා වොක්ලට් නිපදවීම

නිෂ්පාදන ක්‍රම හා ඊට අදාළ නිදසුන් නිවැරදිව ගලපා ඇති කාණ්ඩය තෝරන්න.

- (1) A - 1, 2 B - 3, 4 C - 5, 6
 - (2) A - 1, 3 B - 2, 4 C - 5, 6
 - (3) A - 1, 4 B - 3, 5 C - 2, 6
 - (4) A - 3, 4 B - 5, 6 C - 1, 2
 - (5) A - 5, 6 B - 1, 2 C - 3, 4
- (.....)

23. ශ්‍රී ලංකාවේ මූල්‍ය පද්ධතියේ සංයුතිය නිවැරදි ව දැක්වෙන පිළිතුර තෝරන්න.
- (1) වාණිජ බැංකු, භාණ්ඩාගාර බිල්පත්, තත්කාලීන දළ පියවුම් පද්ධතිය, මුදල් වෙළෙඳපොළ, ශ්‍රී ලංකා මහ බැංකුව
 - (2) මූල්‍ය උපකරණ, මූල්‍ය ආයතන, මුදල් වෙළෙඳපොළ, ශ්‍රී ලංකා මහ බැංකුව, තත්කාලීන දළ පියවුම් පද්ධතිය
 - (3) මූල්‍ය ආයතන, මූල්‍ය යටිතල පහසුකම්, මූල්‍ය උපකරණ, මූල්‍ය වෙළෙඳපොළ, ශ්‍රී ලංකා මහ බැංකුව
 - (4) ශ්‍රී ලංකා මහ බැංකුව, වාණිජ බැංකු, විශේෂිත බැංකු, මූල්‍ය සමාගම්, මූල්‍ය උපකරණ
 - (5) මූල්‍ය උපකරණ, මූල්‍ය ආයතන, තත්කාලීන දළ පියවුම් පද්ධතිය, මුදල් වෙළෙඳපොළ, ශ්‍රී ලංකා මහ බැංකුව (.....)

24. කොළඹ කොටස් හුවමාරුවෙහි ගනුදෙනු වන මූල්‍ය උපකරණ නිවැරදි ව අන්තර්ගත වන පිළිතුර කුමක් ද?
- (1) සාමාන්‍ය කොටස්, වරණීය කොටස්, කොටස් බලපත්‍ර, ඒකකභාර
 - (2) සාංගමික ණයකර, වාණිජ පත්‍රිකා, සාමාන්‍ය කොටස්, කොටස් බලපත්‍ර
 - (3) භාණ්ඩාගාර බිල්පත්, ඒකකභාර, සාමාන්‍ය කොටස්, වරණීය කොටස්
 - (4) භාණ්ඩාගාර බැඳුම්කර, කොටස් බලපත්‍ර, වරණීය කොටස්, සාමාන්‍ය කොටස්
 - (5) සාමාන්‍ය කොටස්, සාංගමික ණයකර, තැන්පතු සහතික, වාණිජ පත්‍රිකා (.....)

25. රැකියා විශ්ලේෂණයේ දී අවධානය යොමු කරන කරුණු කිහිපයක් පහත දැක්වේ.
- | | |
|--------------------------|--|
| A - අධ්‍යාපන සුදුසුකම් | B - සේවා කාලය |
| C - වෘත්තීය සුදුසුකම් | D - කාර්යය, යුතුකම් හා වගකීම් |
| E - පුහුණුව හා පළපුරුද්ද | F - සුපරීක්ෂණය හා ඇගයීම් ක්‍රියාවටිපාටිය |
| G - සේවා දෙපාර්තමේන්තුව | H - වගකිව යුතු නිලධාරියා |

ඉහත කරුණු අතුරින් රැකියා විස්තරයේ දැක්වෙන කරුණු පමණක් ඇතුළත් පිළිතුර තෝරන්න.

- (1) A, B, C, D, H
- (2) A, D, E, F, H
- (3) B, C, E, F, G
- (4) B, D, E, F, G
- (5) B, D, F, G, H (.....)

26. ඇගයීම් නිෂ්පාදන ආයතනයක මානව සම්පත් කළමනාකරණ අංශය තම ආයතනයේ රැකියා ඇබුර්තු කිහිපයක් තිබෙන බව හඳුනාගෙන ඇත. ඒ සඳහා සේවකයින් ආකර්ෂණය හා තෝරා ගැනීමේ දී ආයතනය විසින් අනුගමනය කළ යුතු පියවර කිහිපයක් පහත දැක්වේ.

- A - ඉල්ලුම්කරුවන්ගේ කෙටි ලැයිස්තුවක් පිළියෙල කිරීම
- B - රැකියා විස්තරය පිළියෙල කිරීම
- C - රැකියා දැන්වීම් පිළියෙල කිරීම
- D - සම්මුඛ පරීක්ෂණය පැවැත්වීම
- E - රැකියා පිරිවිතර පිළියෙල කිරීම

ඉහත දැක්වෙන පියවර අනුපිළිවෙලින් නිවැරදි ව දක්වා ඇති පිළිතුර තෝරන්න.

- (1) A, B, E, C, D
- (2) A, C, E, B, D
- (3) B, C, E, D, A
- (4) B, E, C, A, D
- (5) C, B, E, A, D (.....)

27. දත්ත තොරතුරු බවට පත් කිරීමේ උපාංගයක් නොවන්නේ,

- (1) ආදානයයි.
- (2) වර්ගීකරණයයි.
- (3) ගබඩාකිරීමයි.
- (4) ප්‍රතිදානයයි.
- (5) ප්‍රතිපෝෂණයයි. (.....)

